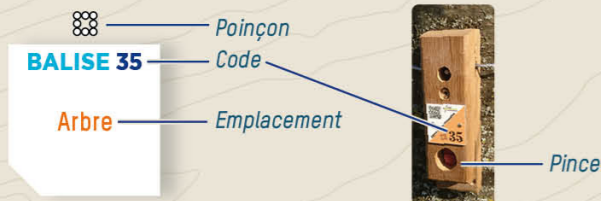


COMMENT ÇA MARCHE ?

- 1- Orienter la carte et repérer le départ.
- 2- Choisir un itinéraire pour aller du départ à la balise 1.



- 3- Utiliser la pince pour poinçonner.
- 4- Répondre à la question du dépliant.
- 5- Continuer vers les balises suivantes en respectant l'ordre.

Bonne découverte !

RECOMMANDATIONS

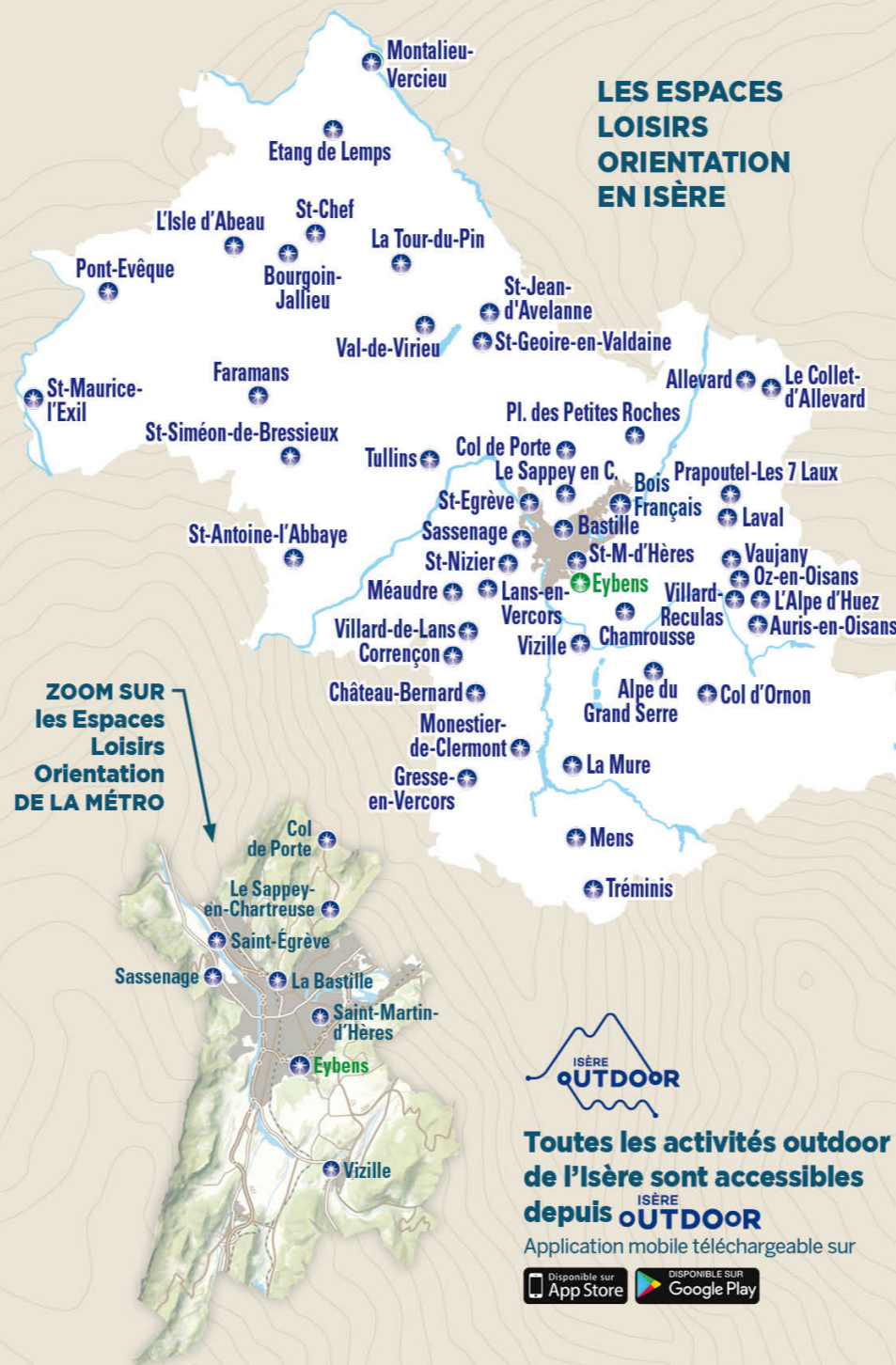
- Il est de la responsabilité de tout pratiquant d'estimer ses capacités à pouvoir pratiquer la course d'orientation sur cet espace.
- Soyez discrets, des balises sont placées à proximité des habitations.
- Respectez les aires de stationnement, les propriétés privées et la réglementation.
- Ramassez vos déchets, ne laissez rien sur le site.
- SECOURS** : En cas de danger, **appelez le 112** et donnez la position exacte de l'accidenté.



L'application Suricate permet de signaler les problèmes que vous rencontrez lors de la pratique d'un sport de nature (erreur de balisage, besoin de sécurisation...)

INFORMATIONS

- VILLE D'EYBENS**
eybens.fr
- COMITÉ DÉPARTEMENTAL DE COURSE D'ORIENTATION DE L'ISÈRE**
www.cdco38.fr



Toutes les activités outdoor de l'Isère sont accessibles depuis ISÈRE OUTDOOR

Application mobile téléchargeable sur




EYBENS

PARCOURS D'ORIENTATION

LUDIQUE
enfant

à la découverte
DES ARCELLES



PARCOURS D'ORIENTATION

DIFFICULTÉ EN ORIENTATION FACILE
ACCÈS 4 SAISONS | 12 BALISES
3,5 KM | +150 M | +/- 1 H 30



BALISE 31
Arbre

1 LE RUISSEAU
Quel est le nom de ce ruisseau qui traverse la commune ?
A Le Langaret **B** Le Rougeret **C** Le Verderet

Regarde bien les panneaux sur le parcours, tu y trouveras la réponse.

BALISE 32
Poutre

2 LA GRANGE DU CHÂTEAU
Ce bâtiment historique accueille depuis septembre 2022 la Maison de la vie associative et citoyenne. Quelle était sa fonction dans le passé ?
A Une écurie **B** Une mairie **C** Une école

BALISE 33
Poteau

3 LE VÉLODROME
Le vélodrome d'Eybens est long de 250m. En octobre 2022, l'italien Filippo Ganna a battu le record de l'heure sur un vélodrome en Suisse en parcourant 56,792 km. Combien de tours cela représente-t-il sur le vélodrome d'Eybens ?
A Un peu plus de 207 tours
B Un peu plus de 227 tours
C Un peu plus de 257 tours



BALISE 34
Poteau bois


4 LA ROUTE DÉPARTEMENTALE
La prochaine route que tu vas traverser après la passerelle porte aussi le nom d'un célèbre personnage, ancien empereur de la France. Déchiffre ce code pour trouver son nom :
14-1-16-15-12-5-15-14

Avant de poursuivre le parcours, regarde l'altitude qui est notée au haut du poteau, tu en auras besoin pour la suite !

BALISE 35
Panneau

5 LE CHÂTEAU D'EYBENS
Sur le site actuel du château d'Eybens existait autrefois un château fort. Complète la légende de ce château fort.

1 Tour d'angle **2** Meurtrière
3 Fossé **4** Pont-levis
5 Donjon **6** Rempart



BALISE 36
Poteau bois

6 LES TONNEAUX
À Eybens par le passé des usines fabriquaient des briques, des tuiles et des tonneaux.
Le tonneau **A** contient 10 litres, il en faut 4 pour remplir le tonneau **B**. Il faut 3 tonneaux **B** pour remplir le tonneau **C**.
Combien de litres contient le tonneau **C** ?



LEGENDE

- Bâtiment
- Propriété privée
- Route
- Chemin
- Sentier
- Escaliers
- Clôture
- Monument
- Pelouse, prairie
- Arbre isolé
- Souche
- Forêt, traversée facile
- Forêt, traversée ralentie
- Courbe de niveau
- Fossé
- Talus
- Rocher

△ Départ : Parc de la mairie
○ Balise

Échelle : 1/5000*
1 cm représente 50 m sur le terrain

Dénivelé entre 2 courbes de niveau : 2,5 m

Carte de course d'orientation - 2022 / Réalisée par Franck Dechavanne / La reproduction de l'ensemble des supports cartographiques est autorisée pour l'usage unique de ce parcours permanent d'orientation et à l'exclusion de tout autre usage. Cet équipement a été mis en place avec l'assistance technique de la Ligue Auvergne Rhône Alpes de course d'orientation / Édition 2023

7 LES CHÂTAIGNERS
Le châtaigner est un arbre commun dans les bois d'Eybens. Son fruit, la châtaigne, est contenu dans une enveloppe piquante qui s'appelle :
A La coquille
B La bogue
C La cupule

Regarde bien les panneaux sur le parcours, tu y trouveras la réponse.

BALISE 37
Butte

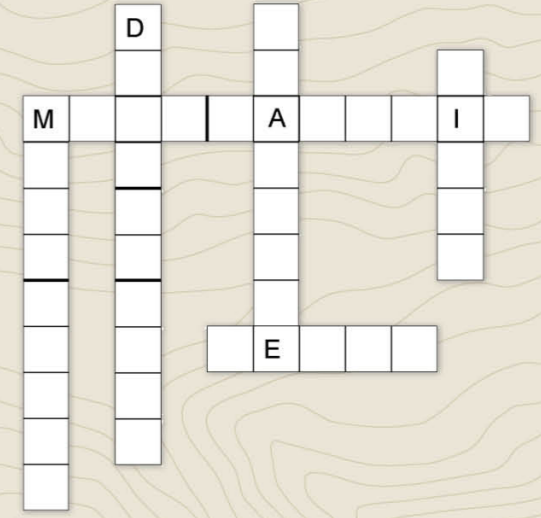


BALISE 38
Poteau bois

8 LA CLAIRIÈRE
Te voici sur le point le plus haut du parcours, à environ 370m d'altitude. Si tu as regardé l'altitude sur le poteau de la balise n°4, tu pourras en déduire tout le dénivelé que tu as effectué :
A 80m **B** 120m **C** 180m

BALISE 39
Belvédère

9 LE BELVÉDÈRE DU SABOT
Complète cette grille de mots croisés avec le nom de quelques-uns des sommets indiqués sur la table d'orientation.



BALISE 40
Panneau

10 LE RUCHER FAMILIAL
Connais-tu les différents insectes de la famille des hyménoptères ?

1 **2** **3** **4** **5**

a Frelon asiatique **b** Guêpe **c** Abeille
d Frelon européen **e** Bourdon



BALISE 41
Poteau bois

11 LES FONTAINES
Observe bien la fontaine, quelle photo est la bonne ?

A **B** **C** **D**



BALISE 42
Arbre

12 LA PLACE DE VERDUN
En route vers Grenoble, Napoléon s'est arrêté à Eybens à une date bien précise, indiquée sur une façade :
A Le 7 mars 1815 **B** Le 9 mars 1835 **C** Le 11 mars 1855

Réponses aux questions :
10-1C / 2-A / 3-B / 4-NAPOLÉON / 5-1B-2C-3F-4A-5E-6D / 6-120 litres / 7-B / 8-B / 9-MONT-JALLA - MONT-RACHAIS - DENT-DU-LOUP - CHARANDE - PINEA - NERON / 10-1C-2B-3E-4D-5A / 11-C / 12-A